
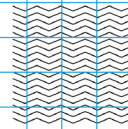


Zadania z treścią



OBLICZENIA

W magazynie znajduje się 120 pudełek z zabawkami. Każde pudełko zawiera 8 zabawek. Ile zabawek jest łącznie w magazynie?

WYNIK

OBLICZENIA

Na przyjęciu czeka 36 talerzy z przekąskami. Jeśli każdy talerz zawiera 5 różnych przekąsek, ile wszystkich przekąsek przygotowano na przyjęcie?

WYNIK

OBLICZENIA

W parku zasadzono 56 drzew. Jeżeli każde z drzew wymaga 7 litrów wody tygodniowo, ile litrów wody trzeba wlać na wszystkie drzewa w ciągu tygodnia?

WYNIK

OBLICZENIA


W bibliotece znajduje się 80 książek. Zdecydowano się na podzielenie ich równo na 4 półki. Ile książek znajdzie się na każdej półce?

WYNIK

OBLICZENIA

W sklepie sprzedawane są jabłka w siatkach po 12 sztuk. Ile jabłek będzie łącznie w 5 siatkach?

WYNIK




ZADANIA Z TREŚCIĄ



OBLICZENIA

Na urodzinowej imprezie było 8 tortów. Każdy tort został pokrojony na 12 kawałków. Ile kawałków tortu przygotowano razem?

WYNIK



OBLICZENIA

W księgarni dostępnych jest 75 książek. Sprzedano 27 książek, lecz przyjęto 15 nowych. Ile książek zostało w księgarni?


WYNIK



OBLICZENIA

Na placu zabaw bawi się 32 dzieci. Do grupy dołącza jeszcze 13 dzieci. Ile dzieci bawi się teraz na placu zabaw?


WYNIK



OBLICZENIA

Uczniowie z klasy mają razem 120 zł. Jeśli 10 uczniów wydało po 5 zł, ile pieniędzy zostało uczniom?

WYNIK



OBLICZENIA

W akwarium pływa 30 ryb. Jeśli 12 ryb wypuszczono do rzeki, a następnie dodano 8 nowych ryb, ile ryb jest obecnie w akwarium?

WYNIK

