

W każdej ramce dorysuj takie monety,
aby otrzymać podane kwoty.



14 zł



16 zł



14 zł



11 zł



9 zł



19 zł



















10 zł



7 zł

Wstaw odpowiedni znak

< = >

| | | |
|---|----------------------|--|
|  | $>$ |  |
|  | <input type="text"/> |  |
|  | <input type="text"/> |  |
|  | <input type="text"/> |  |
|  | <input type="text"/> |  |
|  | <input type="text"/> |  |
|  | <input type="text"/> |  |
|  | <input type="text"/> |  |



ZŁ



ZŁ



ZŁ



ZŁ



$$10 + 2 + 1 = \text{zł}$$

